

Họ, tên thí sinh:.....

Số báo danh:.....

Cho biết nguyên tử khối của các nguyên tố:

H = 1; Li = 7; C = 12; N = 14; O = 16; Na = 23; Mg = 24; Al = 27; P = 31; Cl = 35,5; K = 39; Ca = 40;
Cr = 52; Fe = 56; Cu = 64; Zn = 65; Br = 80; Rb = 85; Ag = 108.**I. PHẦN CHUNG CHO TẤT CẢ THÍ SINH (40 câu, từ câu 1 đến câu 40)****Câu 1:** Phát biểu nào sau đây là đúng?

- A. Tơ nylon-6,6 được điều chế từ hexametylenđiamin và axit axetic.
 B. Polietilen và poli(vinyl clorua) là sản phẩm của phản ứng trùng ngưng.
 C. Tơ visco, tơ xenlulozơ axetat đều thuộc loại tơ tổng hợp.
 D. Sợi bông, tơ tằm thuộc loại polime thiên nhiên.

Câu 2: Cho Fe tác dụng với dung dịch H_2SO_4 loãng tạo thành khí X; nhiệt phân tinh thể KNO_3 tạo thành khí Y; cho tinh thể KMnO_4 tác dụng với dung dịch HCl đặc tạo thành khí Z. Các khí X, Y và Z lần lượt là

- A. Cl_2 , O_2 và H_2S . B. SO_2 , O_2 và Cl_2 . C. H_2 , O_2 và Cl_2 . D. H_2 , NO_2 và Cl_2 .

Câu 3: Lên men 90 kg glucosơ thu được V lít ancol etylic ($D = 0,8 \text{ g/ml}$) với hiệu suất của quá trình lên men là 80%. Giá trị của V là

- A. 57,5. B. 71,9. C. 23,0. D. 46,0.

Câu 4: Cho dãy các ion: Fe^{2+} , Ni^{2+} , Cu^{2+} , Sn^{2+} . Trong cùng điều kiện, ion có tính oxi hóa mạnh nhất trong dãy là

- A. Sn^{2+} . B. Cu^{2+} . C. Fe^{2+} . D. Ni^{2+} .

Câu 5: Thành phần chính của phân bón phức hợp amophot là

- A. $\text{Ca}_3(\text{PO}_4)_2$ và $(\text{NH}_4)_2\text{HPO}_4$. B. $\text{NH}_4\text{H}_2\text{PO}_4$ và $\text{Ca}(\text{H}_2\text{PO}_4)_2$.
 C. NH_4NO_3 và $\text{Ca}(\text{H}_2\text{PO}_4)_2$. D. $\text{NH}_4\text{H}_2\text{PO}_4$ và $(\text{NH}_4)_2\text{HPO}_4$.

Câu 6: Đốt cháy hoàn toàn m gam hỗn hợp X gồm hai ancol đơn chức, cùng dãy đồng đẳng, thu được 15,68 lít khí CO_2 (đktc) và 17,1 gam nước. Mặt khác, thực hiện phản ứng este hóa m gam X với 15,6 gam axit axetic, thu được a gam este. Biết hiệu suất phản ứng este hóa của hai ancol đều bằng 60%. Giá trị của a là

- A. 25,79. B. 24,80. C. 14,88. D. 15,48.

Câu 7: Dung dịch loãng (dư) nào sau đây tác dụng được với kim loại sắt tạo thành muối sắt(III)?

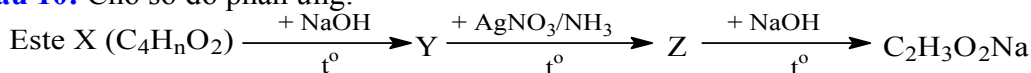
- A. HNO_3 . B. FeCl_3 . C. H_2SO_4 . D. HCl .

Câu 8: Hòa tan hoàn toàn 8,9 gam hỗn hợp gồm Mg và Zn bằng lượng vừa đủ 500 ml dung dịch HNO_3 1M. Sau khi các phản ứng kết thúc, thu được 1,008 lít khí N_2O (đktc) duy nhất và dung dịch X chứa m gam muối. Giá trị của m là

- A. 34,10. B. 31,22. C. 33,70. D. 34,32.

Câu 9: Phát biểu nào sau đây là sai?

- A. Trong phân tử dipeptit mạch hở có hai liên kết peptit.
 B. Tất cả các peptit đều có khả năng tham gia phản ứng thủy phân.
 C. Tripeptit Gly-Ala-Gly có phản ứng màu biure với $\text{Cu}(\text{OH})_2$.
 D. Protein đơn giản được tạo thành từ các gốc α -amino axit.

Câu 10: Cho sơ đồ phản ứng:

Công thức cấu tạo của X thỏa mãn sơ đồ đã cho là

- A. $\text{CH}_3\text{COOCH}=\text{CH}_2$. B. $\text{CH}_2=\text{CHCOOCH}_3$.
 C. $\text{CH}_3\text{COOCH}_2\text{CH}_3$. D. $\text{HCOOCH}_2\text{CH}_2\text{CH}_3$.

- Câu 11:** Cho dung dịch chứa m gam hỗn hợp gồm phenol (C_6H_5OH) và axit axetic tác dụng vừa đủ với nước brom, thu được dung dịch X và 33,1 gam kết tủa 2,4,6-tribromphenol. Trung hòa hoàn toàn X cần vừa đủ 500 ml dung dịch NaOH 1M. Giá trị của m là
A. 39,4. **B.** 33,4. **C.** 24,8. **D.** 21,4.
- Câu 12:** Cho m gam hỗn hợp hơi X gồm hai ancol (đơn chức, bậc I, là đồng đẳng kế tiếp) phản ứng với CuO dư, thu được hỗn hợp hơi Y gồm nước và andehit. Tỉ khối hơi của Y so với khí hydro bằng 14,5. Cho toàn bộ Y phản ứng hoàn toàn với lượng dư dung dịch $AgNO_3$ trong NH_3 , thu được 97,2 gam Ag. Giá trị của m là
A. 14,0. **B.** 10,1. **C.** 14,7. **D.** 18,9.
- Câu 13:** Nguyên tử của nguyên tố X có tổng số hạt proton, notron, electron là 52. Trong hạt nhân nguyên tử X có số hạt không mang điện nhiều hơn số hạt mang điện là 1. Vị trí (chu kỳ, nhóm) của X trong bảng tuần hoàn các nguyên tố hóa học là
A. chu kỳ 3, nhóm VA. **B.** chu kỳ 2, nhóm VA.
C. chu kỳ 2, nhóm VIIA. **D.** chu kỳ 3, nhóm VIIA.
- Câu 14:** Cho dãy gồm các phân tử và ion: Zn, S, FeO, SO_2 , Fe^{2+} , Cu^{2+} , HCl. Tổng số phân tử và ion trong dãy vừa có tính oxi hóa, vừa có tính khử là
A. 5. **B.** 4. **C.** 6. **D.** 7.
- Câu 15:** Tiến hành các thí nghiệm sau:
 (a) Cho lá Fe vào dung dịch gồm $CuSO_4$ và H_2SO_4 loãng;
 (b) Đốt dây Fe trong bình đựng khí O_2 ;
 (c) Cho lá Cu vào dung dịch gồm $Fe(NO_3)_3$ và HNO_3 ;
 (d) Cho lá Zn vào dung dịch HCl.
 Số thí nghiệm có xảy ra ăn mòn điện hóa là
A. 2. **B.** 3. **C.** 4. **D.** 1.
- Câu 16:** Số ancol bậc I là đồng phân cấu tạo của nhau có công thức phân tử $C_5H_{12}O$ là
A. 4. **B.** 1. **C.** 3. **D.** 8.
- Câu 17:** Thủy phân hoàn toàn m gam dipeptit Gly-Ala (mạch hở) bằng dung dịch KOH vừa đủ, thu được dung dịch X. Cô cạn toàn bộ dung dịch X thu được 2,4 gam muối khan. Giá trị của m là
A. 1,64. **B.** 1,22. **C.** 1,46. **D.** 1,36.
- Câu 18:** Tiến hành điện phân (với điện cực trơ) V lít dung dịch $CuCl_2$ 0,5M. Khi dùng điện phân thu được dung dịch X và 1,68 lít khí Cl_2 (đktc) duy nhất ở anot. Toàn bộ dung dịch X tác dụng vừa đủ với 12,6 gam Fe. Giá trị của V là
A. 0,15. **B.** 0,80. **C.** 0,60. **D.** 0,45.
- Câu 19:** Cho cân bằng hóa học: $CaCO_3 (rắn) \rightleftharpoons CaO (rắn) + CO_2 (khí)$
 Biết phản ứng thuận là phản ứng thu nhiệt. Tác động nào sau đây vào hệ cân bằng để cân bằng đã cho chuyển dịch theo chiều thuận?
A. Tăng áp suất. **B.** Tăng nhiệt độ.
C. Tăng nồng độ khí CO_2 . **D.** Giảm nhiệt độ.
- Câu 20:** Cho 20 gam hỗn hợp gồm hai amin no, đơn chức, mạch hở tác dụng vừa đủ với V ml dung dịch HCl 1M, thu được dung dịch chứa 31,68 gam hỗn hợp muối. Giá trị của V là
A. 100. **B.** 50. **C.** 200. **D.** 320.
- Câu 21:** Trong phân tử axit cacboxylic X có số nguyên tử cacbon bằng số nhóm chức. Đốt cháy hoàn toàn một lượng X thu được số mol CO_2 bằng số mol H_2O . Tên gọi của X là
A. axit fomic. **B.** axit malonic. **C.** axit axetic. **D.** axit oxalic.
- Câu 22:** Nung hỗn hợp bột gồm Al và Fe_2O_3 (trong điều kiện không có oxi), thu được hỗn hợp chất rắn X. Chia X thành 2 phần bằng nhau:
 - Cho phần 1 vào dung dịch HCl (dư) thu được 7,84 lít khí H_2 (đktc);
 - Cho phần 2 vào dung dịch NaOH (dư) thu được 3,36 lít khí H_2 (đktc).
 Biết rằng các phản ứng đều xảy ra hoàn toàn. Phần trăm khối lượng của Fe trong X là
A. 42,32%. **B.** 46,47%. **C.** 66,39%. **D.** 33,61%.
- Câu 23:** Cho 42,4 gam hỗn hợp gồm Cu và Fe_3O_4 (có tỉ lệ số mol tương ứng là 3 : 1) tác dụng với dung dịch HCl dư, sau khi các phản ứng xảy ra hoàn toàn còn lại m gam chất rắn. Giá trị của m là
A. 6,4. **B.** 12,8. **C.** 19,2. **D.** 9,6.

Câu 24: Phát biểu nào sau đây là đúng?

- A. Axit béo là những axit cacboxylic đa chức.
- B. Ancol etylic tác dụng được với dung dịch NaOH.
- C. Etylen glicol là ancol no, đơn chức, mạch hở.
- D. Este isoamyl axetat có mùi chuối chín.

Câu 25: Cho các este: etyl fomat (1), vinyl axetat (2), triolein (3), metyl acrylat (4), phenyl axetat (5).
Dãy gồm các este đều phản ứng được với dung dịch NaOH (đun nóng) sinh ra ancol là:

- A. (1), (2), (3).
- B. (2), (3), (5).
- C. (1), (3), (4).
- D. (3), (4), (5).

Câu 26: Phát biểu nào sau đây là đúng?

- A. Tất cả các hidroxit của kim loại nhóm IIA đều dễ tan trong nước.
- B. Trong nhóm IA, tính khử của các kim loại giảm dần từ Li đến Cs.
- C. Tất cả các kim loại nhóm IIA đều có mạng tinh thể lập phương tâm khối.
- D. Trong hợp chất, tất cả các kim loại kiềm đều có số oxi hóa +1.

Câu 27: Số nhóm amino và số nhóm cacboxyl có trong một phân tử axit glutamic tương ứng là

- A. 2 và 2.
- B. 1 và 2.
- C. 2 và 1.
- D. 1 và 1.

Câu 28: Nung một lượng butan trong bình kín (có xúc tác thích hợp) thu được hỗn hợp khí X gồm ankan và anken. Tỉ khối của X so với khí hydro là 21,75. Phần trăm thể tích của butan trong X là

- A. 25,00%.
- B. 66,67%.
- C. 50,00%.
- D. 33,33%.

Câu 29: Tiến hành các thí nghiệm sau:

- (1) Cho Zn vào dung dịch AgNO_3 ;
- (2) Cho Fe vào dung dịch $\text{Fe}_2(\text{SO}_4)_3$;
- (3) Cho Na vào dung dịch CuSO_4 ;
- (4) Dẫn khí CO (dư) qua bột CuO nóng.

Các thí nghiệm có tạo thành kim loại là

- A. (1) và (2).
- B. (3) và (4).
- C. (1) và (4).
- D. (2) và (3).

Câu 30: Cho các phát biểu sau:

- (1) Fructozơ và glucosơ đều có khả năng tham gia phản ứng tráng bạc;
- (2) Saccarozơ và tinh bột đều không bị thủy phân khi có axit H_2SO_4 (loãng) làm xúc tác;
- (3) Tinh bột được tạo thành trong cây xanh nhờ quá trình quang hợp;
- (4) Xenlulozơ và saccarozơ đều thuộc loại disaccarit.

Phát biểu đúng là

- A. (2) và (4).
- B. (1) và (3).
- C. (3) và (4).
- D. (1) và (2).

Câu 31: Cho dãy các dung dịch: axit axetic, phenylamoni clorua, natri axetat, metylamin, glyxin, phenol ($\text{C}_6\text{H}_5\text{OH}$). Số dung dịch trong dãy tác dụng được với dung dịch NaOH là

- A. 5.
- B. 3.
- C. 6.
- D. 4.

Câu 32: Cho dãy các chất: N_2 , H_2 , NH_3 , NaCl , HCl , H_2O . Số chất trong dãy mà phân tử chỉ chứa liên kết cộng hóa trị không cực là

- A. 4.
- B. 3.
- C. 5.
- D. 2.

Câu 33: Hỗn hợp X gồm Na, Al và Fe (với tỉ lệ số mol giữa Na và Al tương ứng là 2 : 1). Cho X tác dụng với H_2O (dư) thu được chất rắn Y và V lít khí. Cho toàn bộ Y tác dụng với dung dịch H_2SO_4 loãng (dư) thu được 0,25V lít khí. Biết các khí đo ở cùng điều kiện, các phản ứng đều xảy ra hoàn toàn. Tỉ lệ số mol của Fe và Al trong X tương ứng là

- A. 5 : 8.
- B. 5 : 16.
- C. 1 : 2.
- D. 16 : 5.

Câu 34: Hấp thụ hoàn toàn 0,336 lít khí CO_2 (đktc) vào 200 ml dung dịch gồm NaOH 0,1M và KOH 0,1M thu được dung dịch X. Cô cạn toàn bộ dung dịch X thu được bao nhiêu gam chất rắn khan?

- A. 2,58 gam.
- B. 2,31 gam.
- C. 2,44 gam.
- D. 2,22 gam.

Câu 35: Hoà tan hoàn toàn 1,1 gam hỗn hợp gồm một kim loại kiềm X và một kim loại kiềm thổ Y ($M_X < M_Y$) trong dung dịch HCl dư, thu được 1,12 lít khí H_2 (đktc). Kim loại X là

- A. Li.
- B. K.
- C. Rb.
- D. Na.

Câu 36: Cho phản ứng hóa học: $\text{Cl}_2 + \text{KOH} \xrightarrow{t^0} \text{KCl} + \text{KClO}_3 + \text{H}_2\text{O}$

Tỉ lệ giữa số nguyên tử clo đóng vai trò chất oxi hóa và số nguyên tử clo đóng vai trò chất khử trong phương trình hóa học của phản ứng đã cho tương ứng là

- A. 1 : 5.
- B. 1 : 3.
- C. 5 : 1.
- D. 3 : 1.

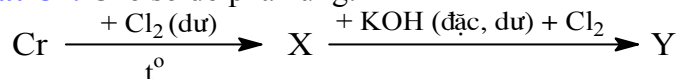
- Câu 37:** Cho dãy các chất: etan, etanol, etanal, axit etanoic. Chất có nhiệt độ sôi cao nhất trong dãy là
A. etan. **B.** axit etanoic. **C.** etanol. **D.** etanal.
- Câu 38:** Kim loại nào sau đây điều chế được bằng phương pháp thủy luyện?
A. Mg. **B.** Cu. **C.** K. **D.** Ca.
- Câu 39:** Phát biểu nào sau đây là sai?
A. Chất béo còn được gọi là triglixerit hoặc triaxylglixerol.
B. Poli(metyl metacrylat) được dùng để chế tạo thủy tinh hữu cơ.
C. Lực bazơ của anilin yếu hơn lực bazơ của metylamin.
D. Cao su buna-N thuộc loại cao su thiên nhiên.
- Câu 40:** Dung dịch E gồm x mol Ca^{2+} , y mol Ba^{2+} , z mol HCO_3^- . Cho từ từ dung dịch $\text{Ca}(\text{OH})_2$ nồng độ a mol/l vào dung dịch E đến khi thu được lượng kết tủa lớn nhất thì vừa hết V lít dung dịch $\text{Ca}(\text{OH})_2$. Biểu thức liên hệ giữa các giá trị V, a, x, y là
A. $V = 2a(x+y)$. **B.** $V = \frac{x+y}{a}$. **C.** $V = a(2x+y)$. **D.** $V = \frac{x+2y}{a}$.

I. PHẦN RIÊNG (10 câu)

Thí sinh chỉ được làm một trong hai phần riêng (phần A hoặc phần B)

A. Theo chương trình Chuẩn (10 câu, từ câu 41 đến câu 50)

- Câu 41:** Cho các chất hữu cơ: $\text{CH}_3\text{CH}(\text{CH}_3)\text{NH}_2$ (X) và $\text{CH}_3\text{CH}(\text{NH}_2)\text{COOH}$ (Y). Tên thay thế của X và Y lần lượt là
A. propan-2-amin và axit aminoetanoic. **B.** propan-2-amin và axit 2-aminopropanoic.
C. propan-1-amin và axit aminoetanoic. **D.** propan-1-amin và axit 2-aminopropanoic.
- Câu 42:** Cho dãy các chất: anđehit axetic, axetilen, glucosơ, axit axetic, metyl axetat. Số chất trong dãy có khả năng tham gia phản ứng tráng bạc là
A. 2. **B.** 5. **C.** 3. **D.** 4.
- Câu 43:** Để loại bỏ Al, Fe, CuO ra khỏi hỗn hợp gồm Ag, Al, Fe và CuO, có thể dùng lượng dư dung dịch nào sau đây?
A. Dung dịch HNO_3 . **B.** Dung dịch $\text{Fe}(\text{NO}_3)_3$.
C. Dung dịch HCl. **D.** Dung dịch NaOH.
- Câu 44:** Hóa hơi hoàn toàn 4,4 gam một este X mạch hở, thu được thể tích hơi bằng thể tích của 1,6 gam khí oxi (đo ở cùng điều kiện). Mặt khác, thủy phân hoàn toàn 11 gam X bằng dung dịch NaOH dư, thu được 10,25 gam muối. Công thức của X là
A. HCOOC_3H_7 . **B.** $\text{C}_2\text{H}_5\text{COOC}_2\text{H}_5$. **C.** $\text{C}_2\text{H}_5\text{COOCH}_3$. **D.** $\text{CH}_3\text{COOC}_2\text{H}_5$.
- Câu 45:** Cho 1,42 gam P_2O_5 tác dụng hoàn toàn với 50 ml dung dịch KOH 1M, thu được dung dịch X. Cô cạn dung dịch X thu được chất rắn khan gồm
A. K_2HPO_4 và K_3PO_4 . **B.** H_3PO_4 và KH_2PO_4 .
C. KH_2PO_4 và K_2HPO_4 . **D.** K_3PO_4 và KOH.
- Câu 46:** Chất nào sau đây vừa tác dụng được với dung dịch NaOH, vừa tác dụng được với nước Br_2 ?
A. $\text{CH}_3\text{CH}_2\text{COOH}$. **B.** $\text{CH}_2=\text{CHCOOH}$. **C.** $\text{CH}_3\text{COOCH}_3$. **D.** $\text{CH}_3\text{CH}_2\text{CH}_2\text{OH}$.
- Câu 47:** Đốt cháy hoàn toàn hỗn hợp X gồm hai ancol no, hai chức, mạch hở cần vừa đủ V_1 lít khí O_2 , thu được V_2 lít khí CO_2 và a mol H_2O . Các khí đều đo ở điều kiện tiêu chuẩn. Biểu thức liên hệ giữa các giá trị V_1, V_2, a là
A. $V_1 = 2V_2 - 11,2a$. **B.** $V_1 = V_2 - 22,4a$. **C.** $V_1 = V_2 + 22,4a$. **D.** $V_1 = 2V_2 + 11,2a$.
- Câu 48:** Công thức chung của amin no, đơn chức, mạch hở là
A. $\text{C}_n\text{H}_{2n+1}\text{N}$ ($n \geq 2$). **B.** $\text{C}_n\text{H}_{2n+3}\text{N}$ ($n \geq 1$). **C.** $\text{C}_n\text{H}_{2n-5}\text{N}$ ($n \geq 6$). **D.** $\text{C}_n\text{H}_{2n-1}\text{N}$ ($n \geq 2$).
- Câu 49:** Cho phản ứng hóa học: $\text{Br}_2 + \text{HCOOH} \longrightarrow 2\text{HBr} + \text{CO}_2$
 Lúc đầu nồng độ của HCOOH là 0,010 mol/l, sau 40 giây nồng độ của HCOOH là 0,008 mol/l. Tốc độ trung bình của phản ứng trong khoảng thời gian 40 giây tính theo HCOOH là
A. $5,0 \cdot 10^{-5}$ mol/(l.s). **B.** $2,0 \cdot 10^{-4}$ mol/(l.s). **C.** $2,5 \cdot 10^{-4}$ mol/(l.s). **D.** $2,5 \cdot 10^{-5}$ mol/(l.s).
- Câu 50:** Hòa tan hoàn toàn 2,7 gam hỗn hợp X gồm Fe, Cr, Al bằng dung dịch HCl dư, thu được 1,568 lít khí H_2 (đktc). Mặt khác, cho 2,7 gam X phản ứng hoàn toàn với khí Cl_2 dư, thu được 9,09 gam muối. Khối lượng Al trong 2,7 gam X là bao nhiêu?
A. 0,54 gam. **B.** 0,81 gam. **C.** 0,27 gam. **D.** 1,08 gam.

B. Theo chương trình Nâng cao (10 câu, từ câu 51 đến câu 60)**Câu 51:** Cho sơ đồ phản ứng:

Biết Y là hợp chất của crom. Hai chất X và Y lần lượt là

- A.** CrCl_2 và $\text{Cr}(\text{OH})_3$. **B.** CrCl_2 và K_2CrO_4 . **C.** CrCl_3 và K_2CrO_4 . **D.** CrCl_3 và $\text{K}_2\text{Cr}_2\text{O}_7$.

Câu 52: Oxi hoá hoàn toàn m gam kim loại X cần vừa đủ 0,25m gam khí O_2 . X là kim loại nào sau đây?

- A.** Ca. **B.** Al. **C.** Fe. **D.** Cu.

Câu 53: Cho các phát biểu:

- (1) Tất cả các anđehit đều có cả tính oxi hoá và tính khử;
(2) Tất cả các axit cacboxylic đều không tham gia phản ứng tráng bạc;
(3) Phản ứng thủy phân este trong môi trường axit là phản ứng thuận nghịch;
(4) Tất cả các ancol no, đa chức đều hòa tan được $\text{Cu}(\text{OH})_2$.

Phát biểu đúng là

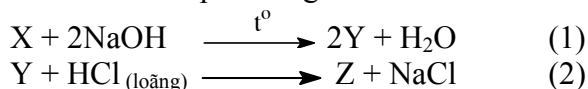
- A.** (1) và (3). **B.** (3) và (4). **C.** (2) và (4). **D.** (1) và (2).

Câu 54: Biết ở 25°C , hằng số phân li bazơ của NH_3 là $1,74 \cdot 10^{-5}$, bỏ qua sự phân li của nước. Giá trị pH của dung dịch NH_3 0,1M ở 25°C là

- A.** 4,76. **B.** 13,00. **C.** 11,12. **D.** 9,24.

Câu 55: Phát biểu nào sau đây là đúng?

- A.** Ở nhiệt độ thường, các amino axit đều là những chất lỏng.
B. Axit glutamic là thành phần chính của bột ngọt.
C. Amino axit thuộc loại hợp chất hữu cơ tạp chức.
D. Các amino axit thiên nhiên hầu hết là các β -amino axit.

Câu 56: Cho các phản ứng sau:Biết X là chất hữu cơ có công thức phân tử $\text{C}_6\text{H}_{10}\text{O}_5$. Khi cho 0,1 mol Z tác dụng hết với Na (dư) thì số mol H_2 thu được là

- A.** 0,15. **B.** 0,20. **C.** 0,10. **D.** 0,05.

Câu 57: Cho dãy các kim loại: Cu, Ni, Zn, Mg, Ba, Ag. Số kim loại trong dãy phản ứng được với dung dịch FeCl_3 là

- A.** 3. **B.** 6. **C.** 4. **D.** 5.

Câu 58: Đốt cháy hoàn toàn hỗn hợp X gồm hai hidrocarbon kế tiếp nhau trong dãy đồng đẳng, thu được 2,24 lít khí CO_2 (đktc) và 3,24 gam H_2O . Hai hidrocarbon trong X là

- A.** C_2H_6 và C_3H_8 . **B.** CH_4 và C_2H_6 . **C.** C_2H_2 và C_3H_4 . **D.** C_2H_4 và C_3H_6 .

Câu 59: Cho thế điện cực chuẩn của các cặp oxi hoá - khử Ag^+/Ag , Cu^{2+}/Cu , Pb^{2+}/Pb , Zn^{2+}/Zn có giá trị lần lượt là: +0,80V; +0,34V; -0,13V; -0,76V. Trong các pin sau, pin nào có suất điện động chuẩn lớn nhất?

- A.** Pin Pb-Cu. **B.** Pin Zn-Ag. **C.** Pin Pb-Ag. **D.** Pin Zn-Cu.

Câu 60: Cho 14,55 gam muối $\text{H}_2\text{NCH}_2\text{COONa}$ tác dụng hoàn toàn với dung dịch HCl dư, thu được dung dịch X. Cô cạn toàn bộ dung dịch X, thu được bao nhiêu gam muối khan?

- A.** 20,03 gam. **B.** 16,73 gam. **C.** 25,50 gam. **D.** 8,78 gam.

----- HẾT -----